






Premières tables de Seguin-17-18-19






Prends un grand tapis, la première table de Seguin, une boîte de barrettes de dizaine, et un bol de barrettes de perles colorées.

1	0
1	0
1	0
1	0
1	0






Place la table de Seguin sur le tapis.

On ajoute une barrette de 7 perles à la première barrette de dizaine.

1	0	
1	0	
1	0	
1	0	
1	0	






1	0	
1	0	
1	0	
1	0	
1	0	






Place les barrettes de dizaine en correspondance

1	7	
1	0	
1	0	
1	0	
1	0	

-Ajoute 7 à 10 pour obtenir le nombre correspondant à cette quantité.
-Dis le nom du nombre obtenu.

On ajoute une barrette de 8 à la deuxième barrette de dizaine.






1	7	
1	0	
1	0	
1	0	
1	0	






1	7	
1	8	
1	0	
1	0	
1	0	

-Ajoute 8 à 10 pour obtenir le nombre correspondant à cette quantité.
-Dis le nom du nombre obtenu.

Premières tables de Seguin-17-18-19

On ajoute une barrette de 9 à la deuxième barrette de dizaine.

1	7	
1	8	
1	0	
1	0	
1	0	

1	7	
1	8	
1	9	
1	0	
1	0	

-Ajoute 9 à 10 pour obtenir le nombre correspondant à cette quantité.
-Dis le nom du nombre obtenu.

Premières tables de Seguin - révisions

Prends un grand tapis, la première table de Seguin, une boîte de barrettes de dizaine, et un bol de barrettes de perles colorées.

1	0
1	0
1	0
1	0
1	0

1	0
1	0
1	0
1	0
1	0

1	0	○○○○○○○○○○○○○○○○○○○○
1	0	○○○○○○○○○○○○○○○○○○○○
1	0	○○○○○○○○○○○○○○○○○○○○
1	0	○○○○○○○○○○○○○○○○○○○○
1	0	○○○○○○○○○○○○○○○○○○○○

1	0	○○○○○○○○○○○○○○○○○○○○
1	0	○○○○○○○○○○○○○○○○○○○○
1	0	○○○○○○○○○○○○○○○○○○○○
1	0	○○○○○○○○○○○○○○○○○○○○
1	0	○○○○○○○○○○○○○○○○○○○○

Place les deux planches de la table de Seguin sur le tapis.

Place les barrettes de dizaine en correspondance

1	0	○○○○○○○○○○○○○○○○○○○○
1	0	○○○○○○○○○○○○○○○○○○○○●
1	0	○○○○○○○○○○○○○○○○○○○○●
1	0	○○○○○○○○○○○○○○○○○○○○○○
1	0	○○○○○○○○○○○○○○○○○○○○○○

1	0	○○○○○○○○○○○○○○○○○○○○○○
1	0	○○○○○○○○○○○○○○○○○○○○○○
1	0	○○○○○○○○○○○○○○○○○○○○○○
1	0	○○○○○○○○○○○○○○○○○○○○○○
1	0	○○○○○○○○○○○○○○○○○○○○○○

*Place chaque barrette de 1, 2, 3, 4, 5, 6, 7, 8, 9 à côté d'une barrette de 10, dans l'ordre.

Place les symboles à la place du 0 pour obtenir le nombre correspondant à chaque quantité.

*Recommence dans le désordre.

*Recommence en plaçant d'abord les symboles, puis place les quantités qui correspondent, dans l'ordre puis dans le désordre.