


petites additions


décomposition additive avec jetons

- Travail demandé: trouver le complément à 5 de 7


-Fanny place la quantité du « tout » dans la case du haut
-Puis elle glisse la première quantité « partie » demandée à partir du « tout »
-elle en déduit la deuxième partie



elle glisse 5 jetons sur 7



elle place 7 jetons



elle glisse les 2 jetons restant et en déduit l'opération.

Décomposition additive de

| |
|--|
| |
|--|

| |
|--|
| |
|--|

+

| |
|--|
| |
|--|