

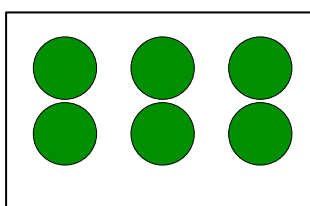
Introduction aux multiplications

Une multiplication est une addition répétée : $2 \times 3 = 2 + 2 + 2$

Deux multiplié par trois =
Deux pris trois fois

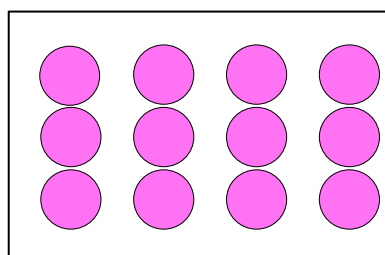
3 fois

Multiplier 2 par 3, c'est prendre une barrette de 2 perles, 3 fois :



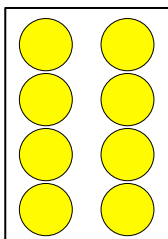
$$2 \times 3 = 2 + 2 + 2$$

Multiplier 3 par 4, c'est prendre une barrette de 3 perles, 4 fois :

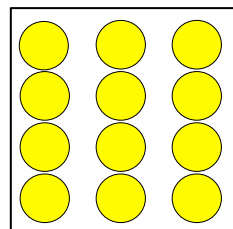


$$3 \times 4 = 3 + 3 + 3 + 3$$

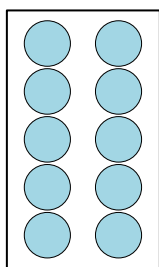
Ecris sous le schéma l'opération réalisée:



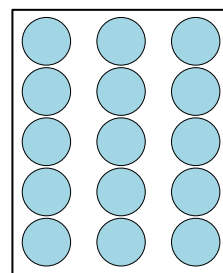
..... X = +



..... X = + +
.....



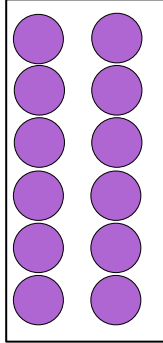
..... X = +



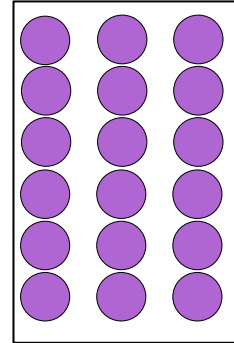
..... X = + +

Introduction aux multiplications

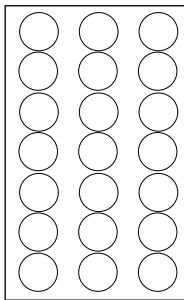
Ecris sous le schéma la multiplication réalisée :



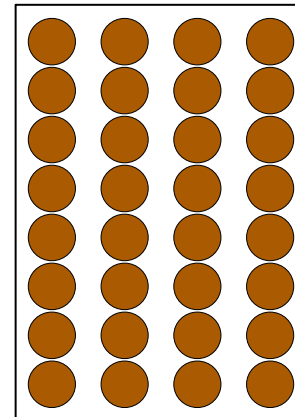
..... X = +



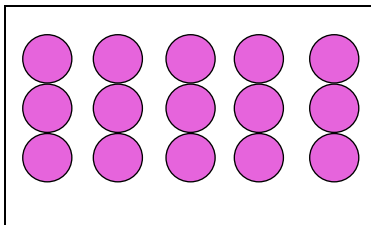
..... X = + +



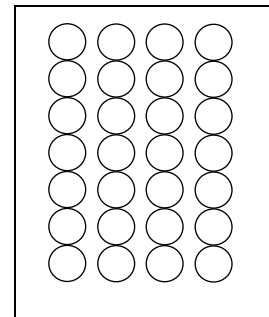
..... X = + +



..... X = + + +



..... X = + + + +



..... X = + + +

Pose les barrettes de perles et compte	Pose les barrettes de perles et compte
$2 + 2 + 2 =$	$2 + 2 + 2 + 2 =$
$2 \times =$	$2 \times =$
Pose les barrettes de perles et compte	Pose les barrettes de perles et compte
$2 + 2 + 2 + 2 + 2 =$	$2 + 2 =$
$2 \times =$	$2 \times =$
Pose les barrettes de perles et compte	Pose les barrettes de perles et compte
$3 + 3 =$	$3 + 3 + 3 =$
$3 \times =$	$3 \times =$
Pose les barrettes de perles et compte	Pose les barrettes de perles et compte
$3 + 3 + 3 + 3 =$	$3 + 3 + 3 + 3 + 3 =$
$3 \times =$	$3 \times =$
Pose les barrettes de perles et compte	Pose les barrettes de perles et compte
$6 + 6 =$	$6 + 6 + 6 =$
$6 \times =$	$6 \times =$

Pose les barrettes de perles et compte	Pose les barrettes de perles et compte
$4 + 4 =$	$4 + 4 + 4 =$
$4 \times =$	$4 \times =$
Pose les barrettes de perles et compte	Pose les barrettes de perles et compte
$4 + 4 + 4 + 4 =$	$4 + 4 + 4 + 4 + 4 =$
$4 \times =$	$4 \times =$
Pose les barrettes de perles et compte	Pose les barrettes de perles et compte
$5 + 5 =$	$5 + 5 + 5 =$
$5 \times =$	$5 \times =$
Pose les barrettes de perles et compte	Pose les barrettes de perles et compte
$5 + 5 + 5 + 5 =$	$5 + 5 + 5 + 5 + 5 =$
$5 \times =$	$5 \times =$
Pose les barrettes de perles et compte	Pose les barrettes de perles et compte
$6 + 6 + 6 + 6 =$	$6 + 6 + 6 + 6 + 6 =$
$6 \times =$	$6 \times =$

Introduction aux multiplications

Réalise avec les barrettes de perles colorées, et dessine la multiplication réalisée :

4 X 3	5 X 3	6 X 2
3 X 4	3 X 5	2 X 6

Que constates-tu ?

..... X = X

..... X = X

..... X = X